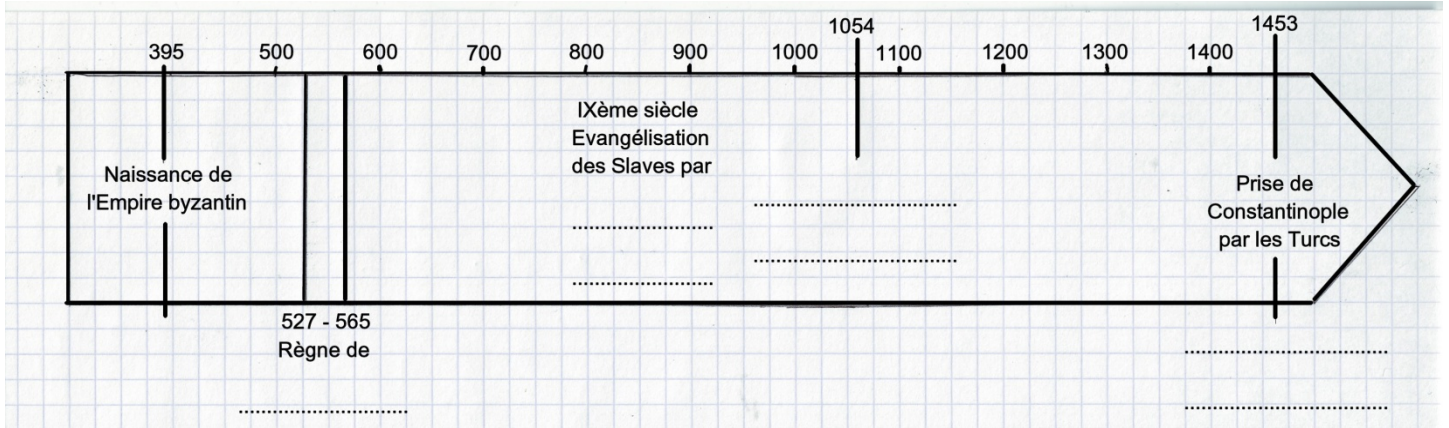
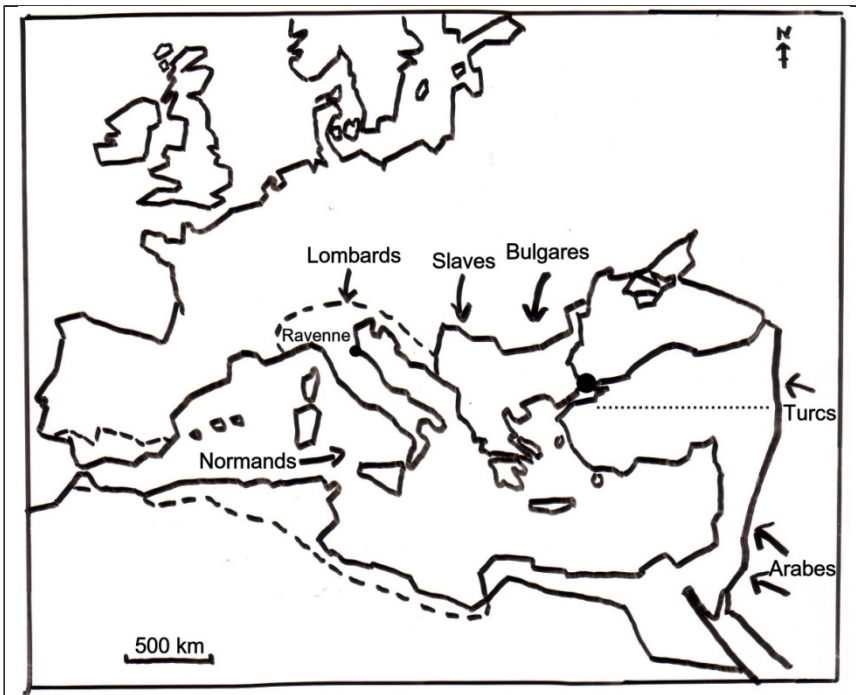


# L'EMPIRE BYZANTIN



## Les conquêtes de Justinien



Réponds aux questions suivantes :

- Trace en rouge la ligne de partage de l'Empire romain par Théodose en 395.
- Indique sur la carte le nom de la capitale de l'Empire byzantin.
- Colorie en orange l'Empire romain d'Orient à l'avènement de Justinien en 527.
- Colorie en jaune les conquêtes de Justinien (527-565).
- Que cherche à reconstituer Justinien ?
- Sur la frise chronologique, colorie en rouge le règne de Justinien.
- Cite un des peuples menaçant l'Empire byzantin entre le VI<sup>ème</sup> et le XV<sup>ème</sup> siècle :
- Indique en bleu le nom des mers et océan.


## Les mosaïques de Ravenne

1/ Qu'est-ce qu'une mosaïque ? .....

2/ Retrouve qui sont les personnages correspondant aux numéros 1, 2, 3 et 4 du croquis (*hauts fonctionnaires, empereur Justinien, soldats et officiers, hommes d'Eglise*) :

- 1 : .....
- 2 : .....
- 3 : .....
- 4 : .....

3/ Complète le schéma :



Justinien est le .....

C'est un personnage .....

Il est le chef de .....

.....

.....

.....